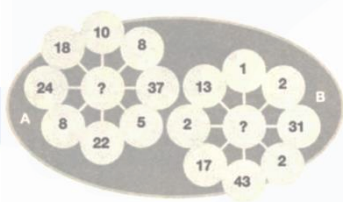


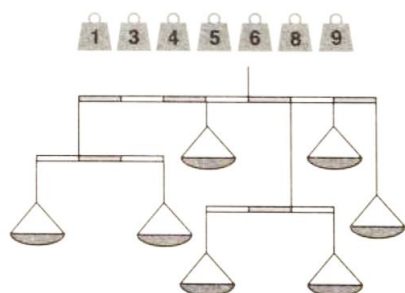


ברוכים הבאים לחוברת ראש בראש מס' 37, עם אתגרי חשיבה מיוחדים, וכמובן כל התשובות המגיעות בסוף החוברת!

שולחים מייל ל a0533180118@gmail.com ואתם בפנים.



1. האם תוכלו לסדר את המשקולות בצורה כזו שהמאזניים ישארו ישרים?

2. האם תוכלו לגלות את השטח שהעקרב תופס?

3. איזה 4 חלקים יש לימו את הריבוע?

4. אלו מספרים יבואו במקום סימני השאלה?

5. שמעון נסע לבקר את חברו עקיבא, הוא נסע 30 ק"מ מזרחה, ואח"כ עוד 40 ק"מ צפונה. כשהגיע לעקיבא, נאמר לו שיש כביש חדש שנוסע ישירות מהעיר שלו לעיר של עקיבא.... כמה ק"מ הוא יכל לחסור אילו נסע בכביש החדש?

6. חלקו את הקוביה ל-4 חלקים סימטריים שווים, שבתוך כל חלק יהיה סך מספרים העולה ל-50! <<<<<<<<<<<<<<<





רענון

