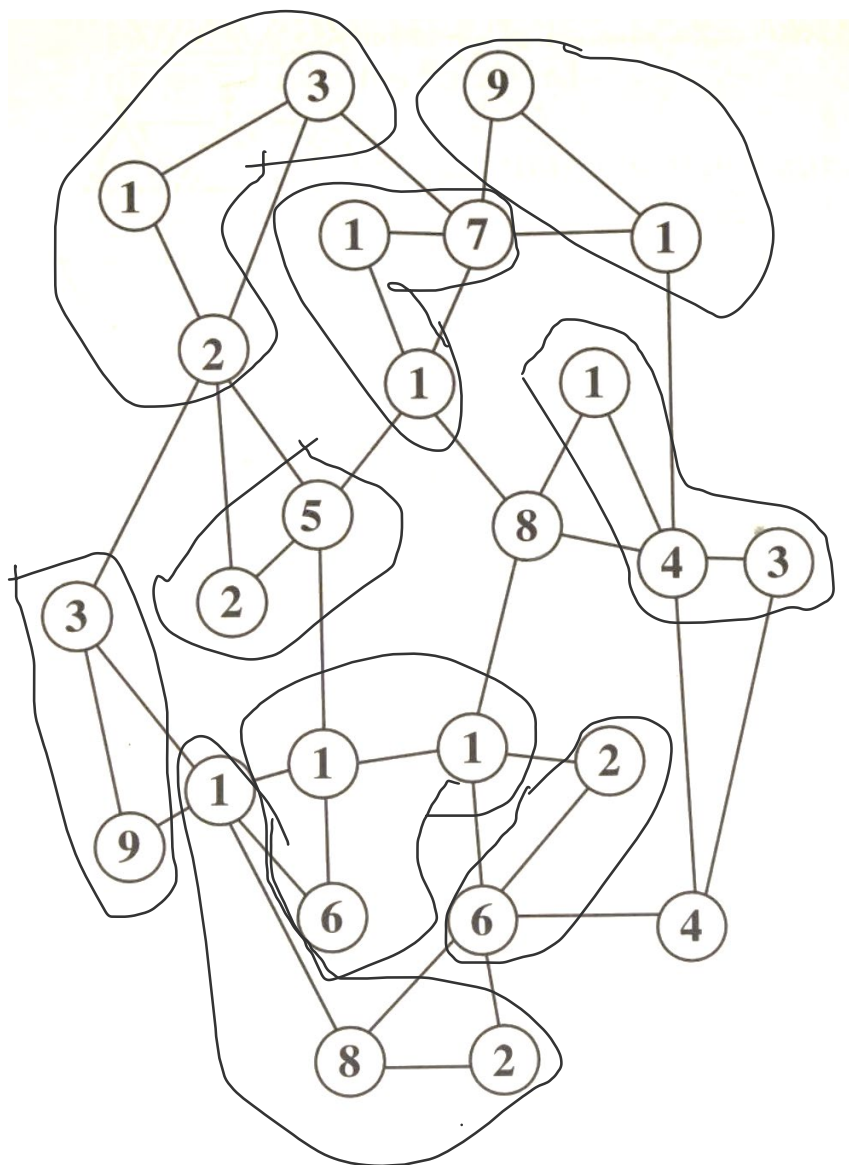


# עצי כפל

הכירו את עצי הכפל, בכל עץ ישנם כפולות של מס' מסוים, הכפולות התפזרו בין הענפים, ועליכם למצא אותם. הנה דוגמא! נחפש את הכפולות של מס' 13. שימו לב שהקפתי אותם!

הנה הכללים: המספרים מחוברים זה לזה בקווים. יתכנו מספרים מיותרים!



הנה המספרים:

26

39

52

91

117

143

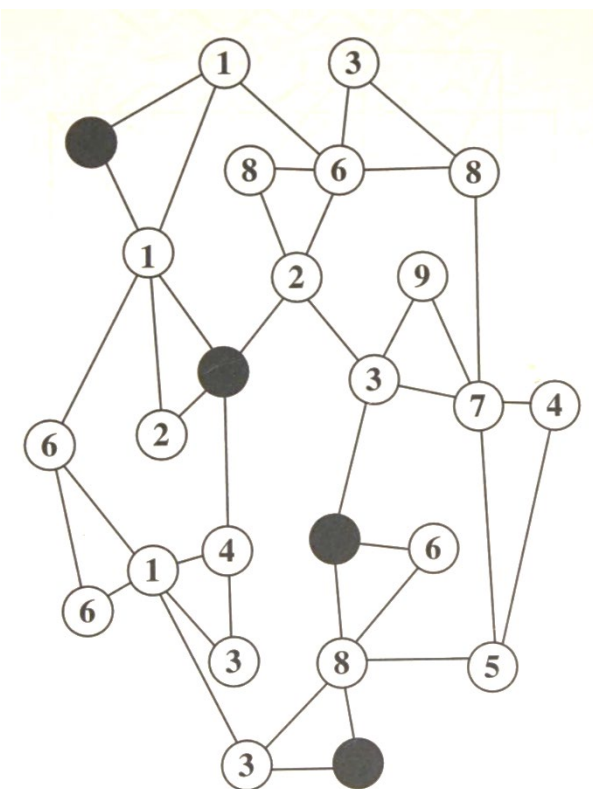
182

312

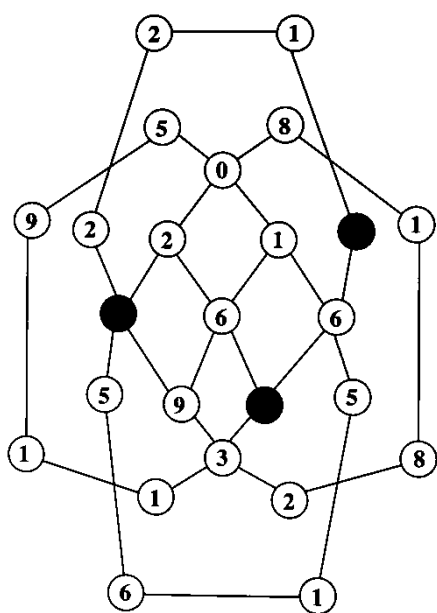
611

בדף הבא תקבלו עצים נוספים, ליד כל עץ אכתוב לכם מספר חדש שתצטרכו לנסות ולמצא את הכפולות שלו!

1. בעץ זה מסתתרים 6  
כפולות של המספר 11!



2. בעץ הזה תוכלו למצא 8 כפולות של  
המספר 13!



3. בעץ הזה תמצאו 7 כפולות של  
המספר 17!

