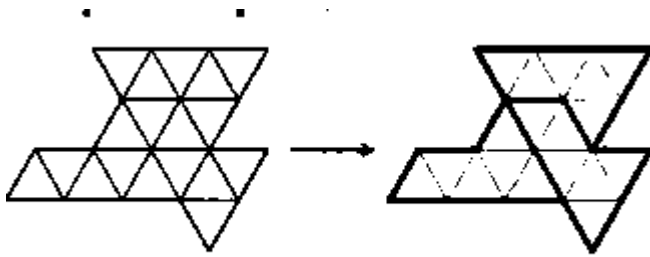



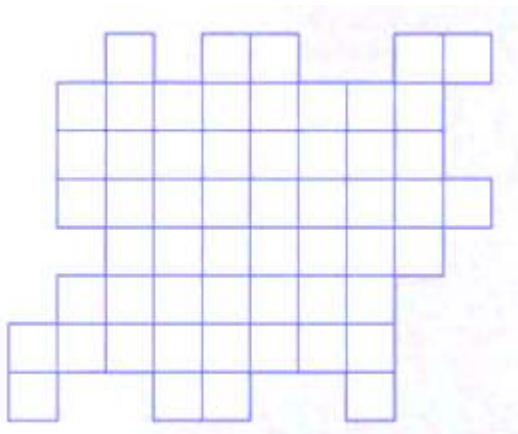
חלוקה נכונה



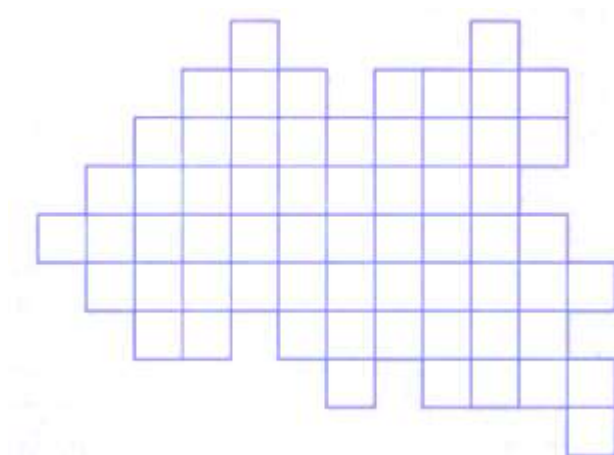
שלום לכולם! באתגר הבא עליכם למצא את
הדרך לחלק את הצורה לחלקים שווים הנה
דוגמא של חלוקה ל-3:



חלוקה ל-5
חלקים שווים!



חלוקה ל-8 חלקים שווים!



חלוקה ל-3 חלקים שווים!