


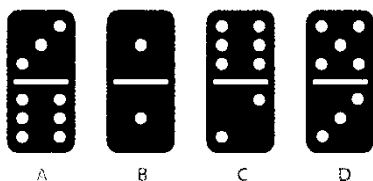

# אתגרי דומינו!

שלום חברים! הנה לכם מקבץ אתגרי דומינו!




1. עשר אריחי דומינו היו במקומם, ששה נפלו, עליכם לשבץ אותם במקומם, בצורה כזו שסך כל אחד מהטורים יהיה שווה ל-9! (ארבעת הטורים במרכז)

2. כאן גם היו 10 אריחים, אך 5 נפלו. עליכם להחזיר את האריחים למקומם כך שכל אחד מ-4 הטורים יגיע לסך 8!




3. איזה מהאריחים ימלא את מקומו של האריח הנעלם?


4. האם כאן תוכלו לגלות את האריח החסר, בחרו את הנכון מתוך ארבעת האריחים בשורה השניה?



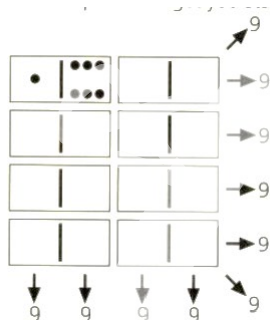
5. מה תשימו כאן במקום הסימני שאלה?



6. עליכם לשבץ את אריחי הדומינו כך שבכל שורה לאורך ולרוחב, וכן באלכסון יהיה שווה 26! שימו לב לדגש נוסף בכל פעם שאתם שמים אריח הצד הימני של האריח יהיה גבוה מהצד השמאלי או שיהיה שווה לו. (דוגמא – צד ימין 2 נקודות צד שמאל נקודה אחת, או 6 נקודות ליד 6 נקודות!)



7. שבצו את האריחים בצורה כזו, שכל שורה וטור יהיה שווה 9!



בהצלחה!

