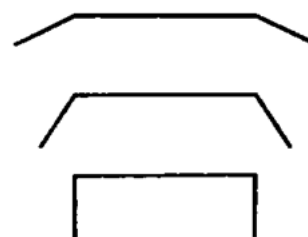


אשליות אופטיות 2

1. איזה מהם יותר גדול?




2. מה יותר רחב המרחק במשולש א' או ב'?

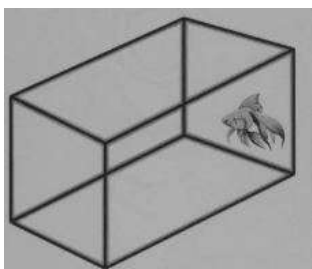


3. נחש או חולץ בקבוקים?

4. רואים את המורה? <<<<<<<<<<<<<<<<<




5. הדג בתוך האקווריום או מחוצה לו?



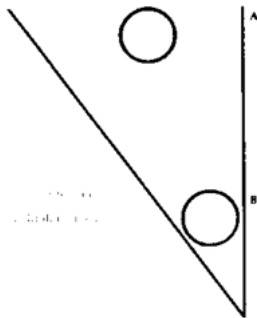


6. תהפכו את הדף האם קרה משהו למיקום של המספר 8?



7. הפסים האלה ישרים או לא?



8. איזה עיגול גדול יותר?



9. ממבט ראשון מה יותר קרוב הקו של ג' לד' או של א' לב'?



10. אמרו לי שבאם יקחו את הדף הזה ויסובבו אותו תוך כדי התמקדות בעיגול הזה. ככה לפחות 30 שניות. אם ממשיכים להתבונן בדף אחרי העצירה העיגול עדיין יהיה בתנועה!